
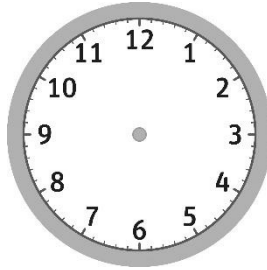


Nombre: Fecha: Curso:


1. Dibuja o escribe la hora en los siguientes relojes.



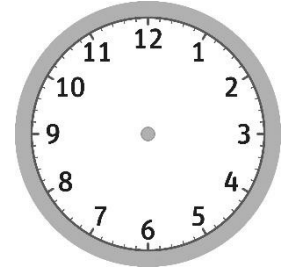
:



23 : 35



:



18 : 15

2. Completa.

2 h = min

3 h 12 min = min

14 min = s

1 h 8 min = s

4 h = s

10 min 12 s = s

240 s = min

5 h 30 s = s

1 día = min

3 día 2 h = h

300 minutos = h

15 min 45 s = s

3. Mateo ha ido con su padre a una ONG a entregar los juguetes que ya no usa para que los puedan disfrutar otros niños. El horario de atención al público es de 9:30 a 13:00 y de 15:30 a 20:00, de lunes a viernes, y los sábados de 10:15 a 15:00 horas.

a) Si son las 14:55 del martes, ¿cuánto tiempo falta para que abran?

b) ¿Cuánto tiempo abren por las mañanas de lunes a viernes? _____ ¿Y en todo el día? _____

c) ¿Cuánto tiempo abren más tarde los sábados? _____